

Запиши решения задач:

1. По реке шли 11 теплоходов и катеров вместе. Катеров было восемь, а остальные – теплоходы. Сколько было теплоходов?

--	--	--	--	--	--	--	--	--	--	--	--

2. Бабушка связала внуку четыре носочка и две варежки. Сколько пар изделий связала бабушка?

--	--	--	--	--	--	--	--	--	--	--	--

3. Сколько ручек у пяти дверей?

--	--	--	--	--	--	--	--	--	--	--	--

4. Вася загадал друзьям 12 загадок. Восемь загадок отгадал Петя, а одну – Катя. Сколько загадок остались неразгаданными?

--	--	--	--	--	--	--	--	--	--	--	--

5. В букете три колокольчика, три василька, а ромашек столько, сколько колокольчиков и васильков вместе. Сколько всего цветов в букете?

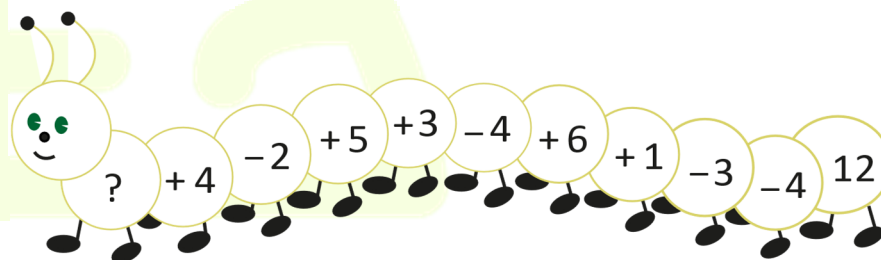
--	--	--	--	--	--	--	--	--	--	--	--

12	- 4	○	+ 3	○	- 6	○	+ 7	□
13	- 5	○	- 4	○	+ 9	○	+ 11	□
□	+ 6	○	- 8	○	+ 5	○	+ 2	15

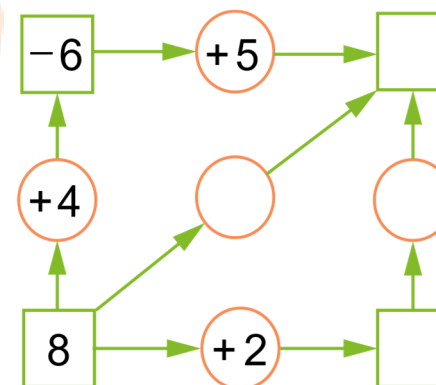
6. Дети посадили 14 деревьев. Пять саженцев - берёзы, шесть – липы, а остальные – дубы. Сколько дубов посадили дети?

--	--	--	--	--	--	--	--	--	--	--	--


Реши обратную цепочку:



Пройди по стрелкам и заполни пропуски в квадрате:



Сколько кубиков на рисунке?



	+		=	12		
	+		=	11		
	+		+		=	16